
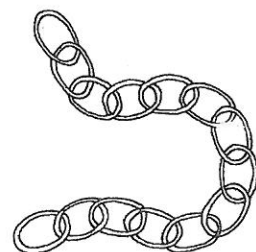
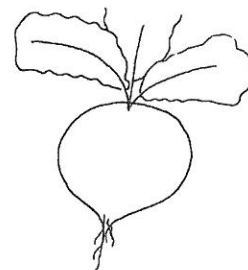
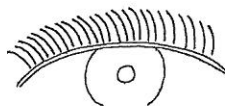

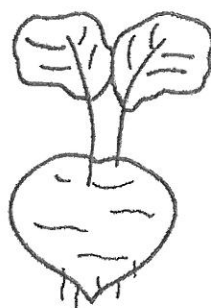



ř Ř ř Ř



řepa řetěz řasy slunečnice  
ředkvička koník




ch CH ch Ch

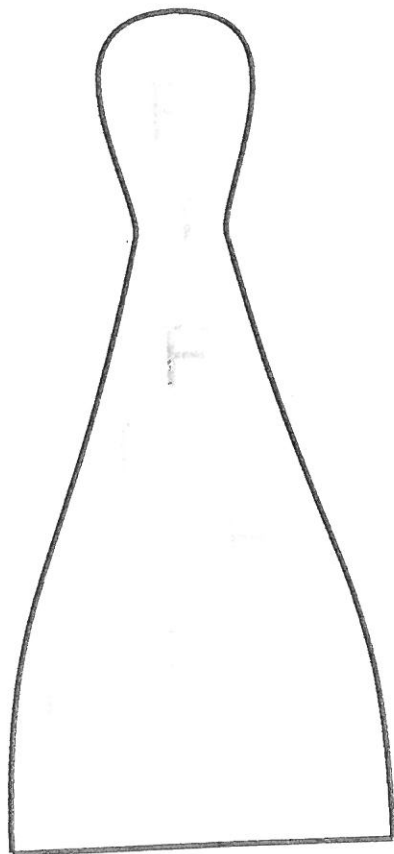



chirurg chrám chřpa  
chlapek chleba chůba  
chameleon chůba chřpík  
chůba chřpík chleba

chlachodbachráně  
chlachodbachráně  
chlachodbachráně  
chlachodbachráně



f F f F



oritfazolefialka  
fujarafíkofotbalflétnafav  
filmforma

**Sčítání a odčítání do 20 bez  
přechodu desítky**

---

**6. Vypočítej z paměti:**

a)  $3 + 16$

b)  $11 + 8$

c)  $13 + 2$

d)  $13 - 2$

e)  $17 - 4$

f)  $20 - 7$

**Sčítání a odčítání do 20 bez  
přechodu desítky**

---

**5. Vypočítej z paměti:**

a)  $13 + 4$

b)  $20 - 4$

c)  $17 - 6$

d)  $3 + 13$

e)  $12 + 7$

f)  $15 - 2$

**Sčítání a odčítání do 20 bez  
přechodu desítky**

---

**8. Vypočítej z paměti:**

a)  $18 - 5$

b)  $20 - 8$

c)  $5 + 14$

d)  $11 + 7$

e)  $4 + 15$

f)  $19 - 6$

**Sčítání a odčítání do 20 bez  
přechodu desítky**

---

**7. Vypočítej z paměti:**

a)  $18 - 3$

b)  $1 + 13$

c)  $19 - 7$

d)  $17 + 3$



e)  $20 - 6$

f)  $4 + 14$

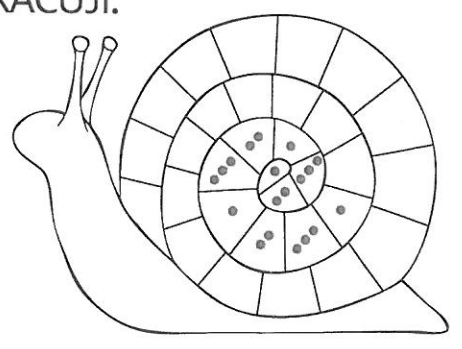
1 DOPLNÍM.

7		2		2	4		1	4	
10		7				7		10	
	5	1	1	6		2		3	0
9				8		5			
3			7	5	0	4			3
6		9				7		8	

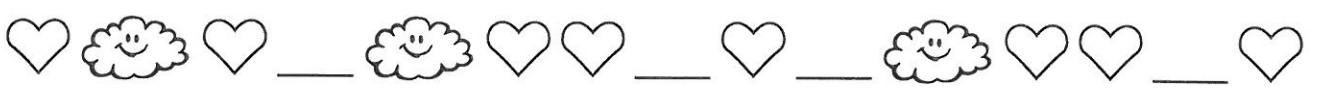
2 NAKRESLÍM.



3 POKRAČUJI.



1 DOKRESLÍM A DOPLNÍM.



CELKEM: \_\_\_ ♥ A \_\_\_ ☺



CELKEM: \_\_\_ △ A \_\_\_ ○

2 DOPLNÍM.

4	0	1	2	0	3	2	2	1	1	1	4	4	0	3
3		4	2					3	4			4		
		7				8		10						

3 ZAPIŠU POČET LÍSTKŮ.

