

$9 + 5 = \underline{\quad}$

$9 + 4 = \underline{\quad}$

$9 + 6 = \underline{\quad}$

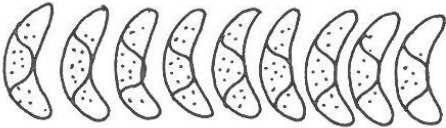

$9 + 3 = \underline{\quad}$

$9 + 9 = \underline{\quad}$

$9 + 2 = \underline{\quad}$

$9 + 8 = \underline{\quad}$

$9 + 7 = \underline{\quad}$

Na stole leží  a .

Kolik kusů pečiva leží na stole?

Vypočítej: _____

Na stole leží _____ kusů pečiva.

Míla namaloval 9 kytiček. Tomáš namaloval o 3 kytičky více.
Kolik kytiček namaloval Tomáš?

Znázorni: _____

Vypočítej: _____

Tomáš namaloval _____ kytiček.

$9 + 4 = \underline{\quad}$

$11 + 3 = \underline{\quad}$

$9 + 3 = \underline{\quad}$

$20 - 4 = \underline{\quad}$

$9 + 5 = \underline{\quad}$

$12 + 8 = \underline{\quad}$

$16 + 2 = \underline{\quad}$

$8 - 3 = \underline{\quad}$

$9 + 9 = \underline{\quad}$

$14 + 4 = \underline{\quad}$

$9 + 6 = \underline{\quad}$

$12 - 2 = \underline{\quad}$

$9 + 2 = \underline{\quad}$

$13 + 5 = \underline{\quad}$

$9 + 8 = \underline{\quad}$

$16 - 1 = \underline{\quad}$

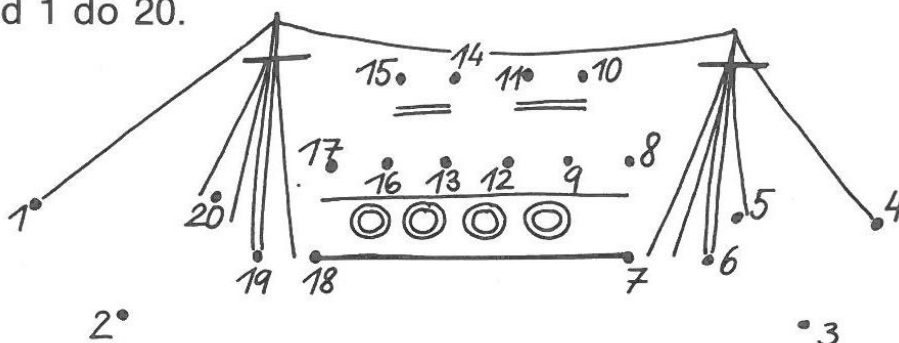
$9 + 7 = \underline{\quad}$

$17 + 1 = \underline{\quad}$

$10 + 4 = \underline{\quad}$

$19 - 6 = \underline{\quad}$

Spoj čísla od 1 do 20.



Haně je 16 roků. Heleně je o 5 roků méně.
Kolik roků je Heleně?

Znáznorní:

Hana: _____

Helena: _____

Vypočítej: _____

Heleně je _____ roků.



Vypočítej.

$13 - \underline{\quad} = 11$

$8 - \underline{\quad} = 3$

$12 + \underline{\quad} = 15$

$4 + \underline{\quad} = 9$

$15 - \underline{\quad} = 10$

$14 - \underline{\quad} = 12$

$11 + \underline{\quad} = 16$

$17 + \underline{\quad} = 20$

$16 - \underline{\quad} = 14$

$9 - \underline{\quad} = 6$

$13 + \underline{\quad} = 19$

$10 + \underline{\quad} = 15$

$18 - \underline{\quad} = 14$

$20 - \underline{\quad} = 16$

$15 + \underline{\quad} = 18$

$5 + \underline{\quad} = 8$

$17 - \underline{\quad} = 15$

$11 - \underline{\quad} = 11$

$14 + \underline{\quad} = 17$

$18 + \underline{\quad} = 18$

